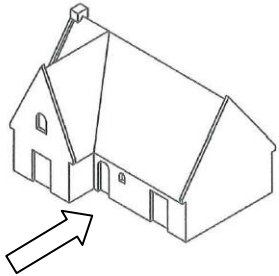
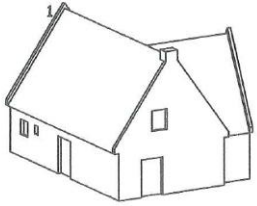
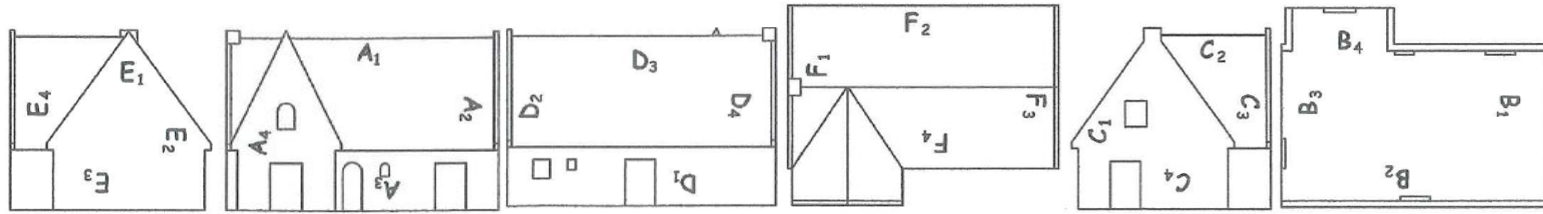


NOM : _____



Face

On donne les 6 vues et 2 perspectives
représentant une maison.
Donner les noms des vues dans le schéma
ci-dessous.
Découper les vues données sur la demi feuille en
suivant le parallépipède capable les entourant.
Effectuer alors le travail sur la feuille jointe.

Vue de			

Vue de	Vue de	Vue de	Vue de
_____	_____	_____	_____
Vue de			

